

Question 3. Rédiger une fonction `coupsPossiblesRouge(G, couleur)` qui renvoie la liste des sommets incolores qu'il est possible de colorer en rouge en respectant les contraintes du jeu. On supposera que `couleur` est une coloration valide du graphe.

Rédiger de même la fonction `coupsPossiblesBleu(G, couleur)`.

Pour les valeurs de n et de k suivantes, donner le nombre de coups possibles pour le joueur bleu pour la coloration $[0, 1, 2, 0, 1, 2, 0, 1, 2, 0, \dots]$:

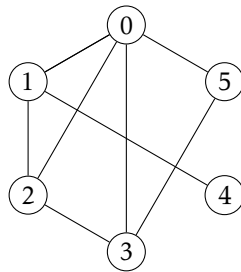
- a) $(n, k) = (50, 150)$ b) $(n, k) = (100, 25)$

Question 4. La liste `couleur = [c0, c1, ..., cn-1]` peut être interprétée comme la décomposition en base 3 de $m = \sum_{i=0}^{n-1} c_i 3^i$.

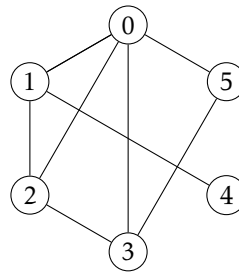
a. Rédiger une fonction `encode(couleur)` qui calcule cet entier m .

b. Rédiger une fonction `decode(m)` qui, partant de l'entier m , renvoie la liste `couleur` qui lui est associée. On rappelle que si $m = \sum_{i=0}^{n-1} c_i 3^i$ alors $m \bmod 3 = c_0$ et $\lfloor \frac{m}{3} \rfloor = \sum_{i=1}^{n-1} c_i 3^{i-1}$.

c. Le graphe représenté ci-dessous correspond au couple $(n, k) = (6, 5000)$. Colorer les sommets associés aux codages 624 et 495.



$n = 624$



$n = 163$

Dans les deux cas, c'est au joueur rouge de jouer. S'agit-il d'une position gagnante ou perdante pour ce joueur ?

Simulation d'une partie

Dans cette partie, chaque joueur adopte la stratégie suivante : lorsqu'il doit jouer, le joueur calcule l'ensemble des coups qui lui sont possibles et s'il en existe, choisit le sommet le plus petit. Par convention, le joueur rouge commence.

Question 5. Rédiger une fonction `partie(G)` qui prend en argument un graphe et renvoie la liste des coups joués ainsi que le gagnant, lorsque les deux joueurs adoptent la stratégie explicitée ci-dessus.

Donner la liste des coups joués et le vainqueur pour les valeurs de n et de k suivantes :

- a) $(n, k) = (10, 3000)$ b) $(n, k) = (100, 6000)$

Recherche des positions gagnantes

D'après le cours nous savons que les colorations valides d'un graphe peuvent être séparées en deux groupes :

- les *positions perdantes* (le noyau), qui sont caractérisées par le fait que tous les coups possibles sont des positions gagnantes (ce qui inclut le cas où aucun coup n'est possible) ;
- les *positions gagnantes*, qui sont caractérisées par l'existence d'un coup possible menant à une position perdante.

Nous avons vu en cours un algorithme itératif de calcul du noyau ; nous allons cette fois mettre en place un algorithme récursif de manière à obtenir un dictionnaire qui à chaque coloration valide associe le booléen `True` si la position est gagnante pour le joueur rouge, et `False` sinon.

Sachant que les clefs d'un dictionnaire ne peuvent être de type mutable (ce qui exclut les listes), nous utiliserons le codage d'une coloration (défini à la question 4) en guise de clef.

Question 6. On suppose ce dictionnaire créé et nommé `PositionsGagnantes`.

Rédiger deux fonctions mutuellement récursives `rougeGagne(G, couleur)` et `bleuGagne(G, couleur)` qui renvoient le booléen `True` ou `False` suivant que la position `couleur` est gagnante ou pas pour le joueur concerné. On utilisera une mémoïsation des résultats dans le dictionnaire `PositionsGagnantes`.

Remarque. Noter que le dictionnaire est relatif au joueur rouge, et qu'une position gagnante pour le joueur bleu est une position perdante pour le joueur rouge.

On suppose que le joueur rouge commence. Donner le nom du vainqueur lorsque les deux joueurs adoptent une stratégie optimale pour les valeurs de n et de k suivantes :

a) $(n, k) = (8, 5\ 000)$

b) $(n, k) = (12, 1\ 000)$

c) $(n, k) = (20, 5\ 000)$

Les réponses attendues

Question 1.

a) pour $(n, k) = (100, 1\ 000)$:

b) pour $(n, k) = (100, 5\ 000)$:

Question 2.

a) pour $n = 50$:

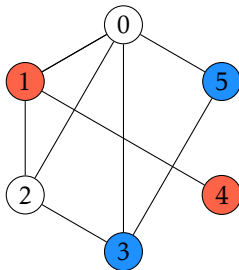
b) pour $n = 100$:

Question 3.

a) pour $(n, k) = (50, 150)$:

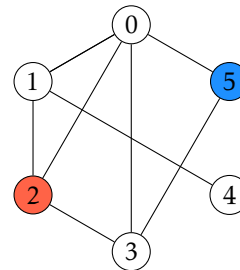
b) pour $(n, k) = (100, 25)$:

Question 4.



$n = 624$

bleu gagne



$n = 495$

rouge gagne (en jouant 1 ou 4)

Question 5.

a) pour $(n, k) = (10, 3\ 000)$:

[0, 2, 1, 3]

b) pour $(n, k) = (100, 6\ 000)$:

[0, 8, 6, 15, 19, 55, 26, 70, 66]

Question 6.

a) pour $(n, k) = (8, 5\ 000)$:

b) pour $(n, k) = (12, 1\ 000)$:

c) pour $(n, k) = (20, 5\ 000)$: